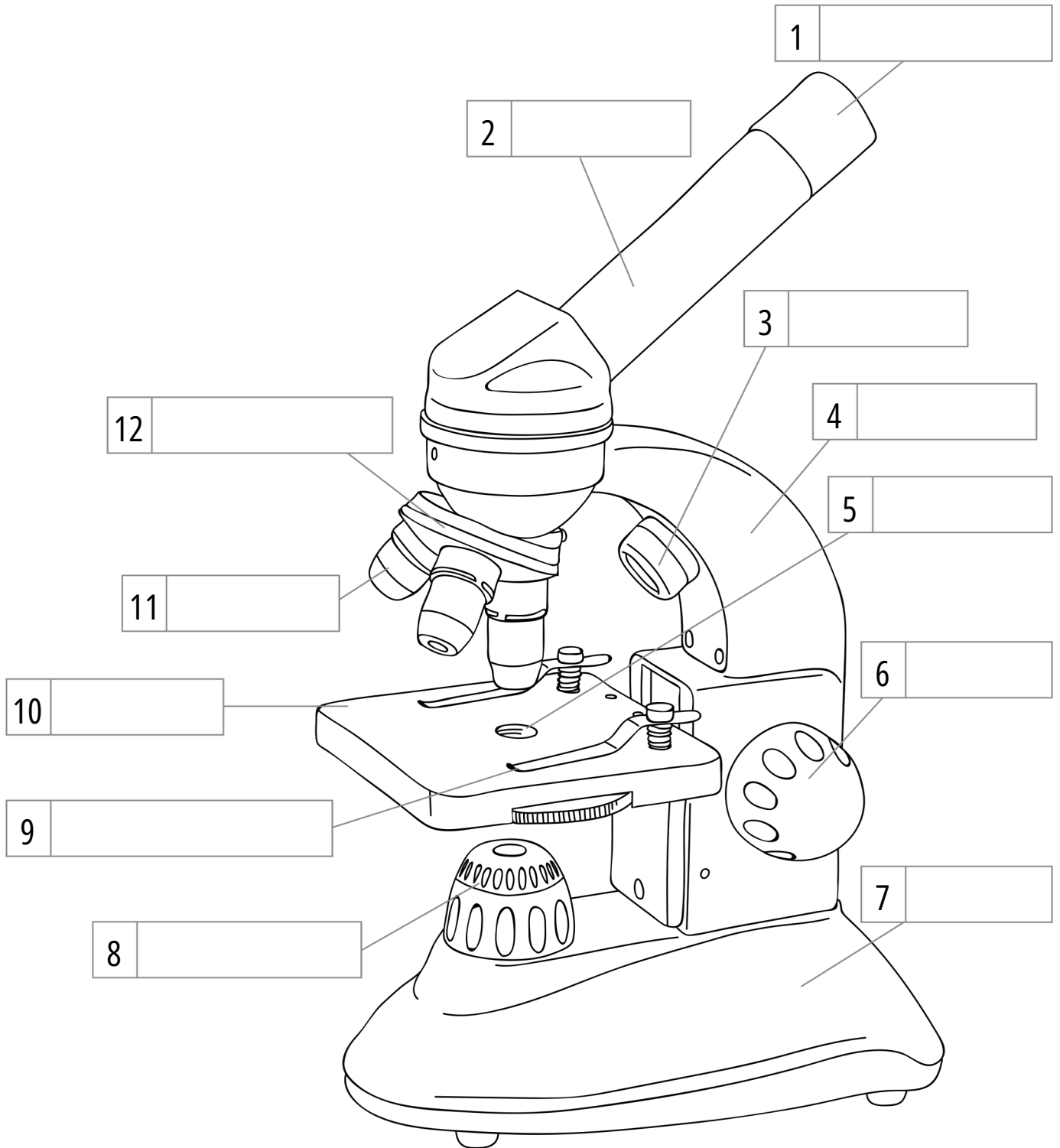
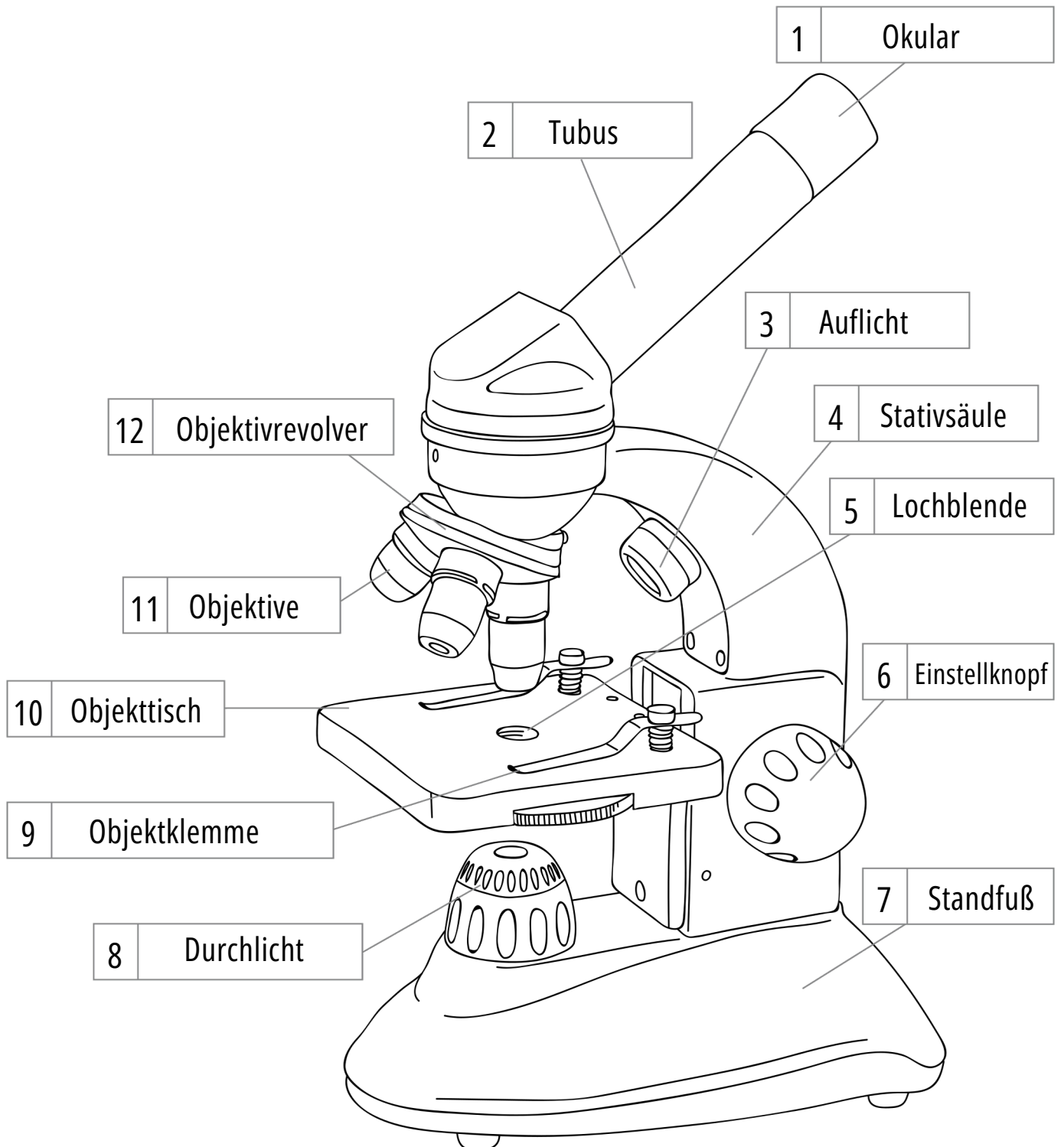


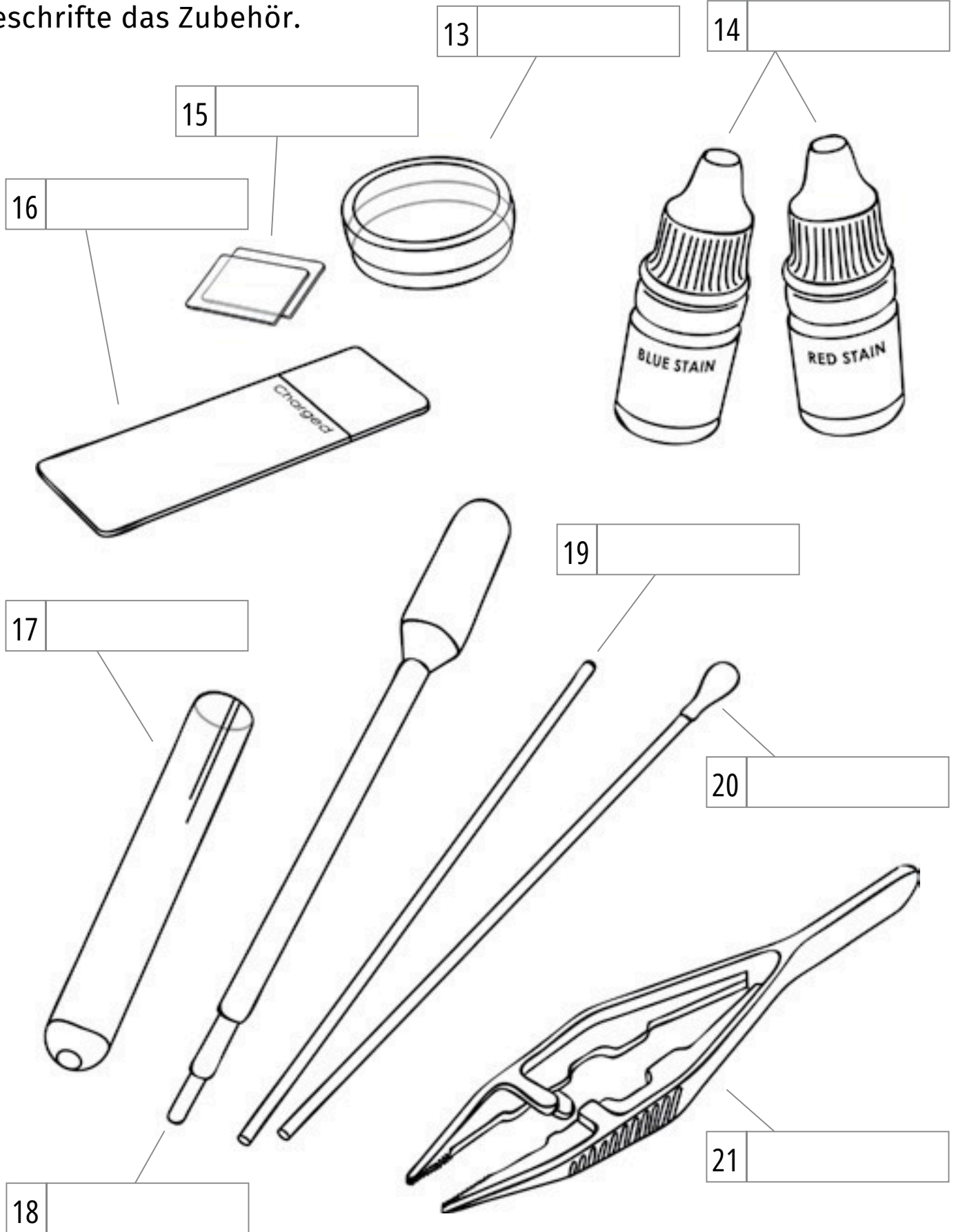
Beschrifte die Bauteile.



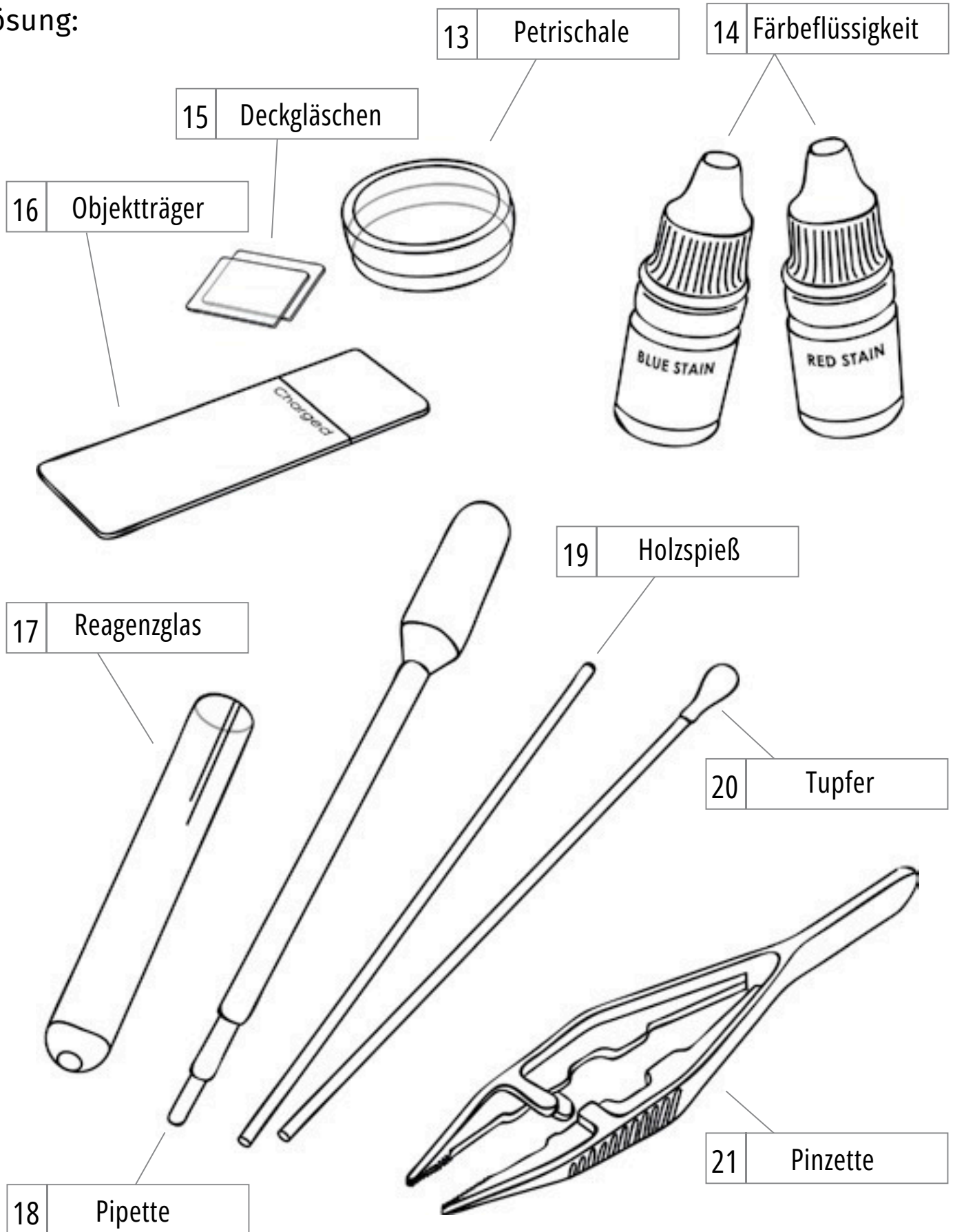
Lösung:



Beschrifte das Zubehör.



Lösung:



Ordne die Begriffe den passenden Erklärungen richtig zu.

|                     |   |
|---------------------|---|
| Einstellknopf/Trieb | 1 |
|---------------------|---|

|        |   |
|--------|---|
| Okular | 2 |
|--------|---|

|        |   |
|--------|---|
| Blende | 3 |
|--------|---|

|           |   |
|-----------|---|
| Stativfuß | 4 |
|-----------|---|

|       |   |
|-------|---|
| Tubus | 5 |
|-------|---|

|                  |   |
|------------------|---|
| Objektivrevolver | 6 |
|------------------|---|

|          |   |
|----------|---|
| Objektiv | 7 |
|----------|---|

|             |   |
|-------------|---|
| Objekttisch | 8 |
|-------------|---|

|        |   |
|--------|---|
| Objekt | 9 |
|--------|---|

|             |    |
|-------------|----|
| Stativsäule | 10 |
|-------------|----|

|                                  |    |
|----------------------------------|----|
| Lampe (Auflicht- und Durchlicht) | 11 |
|----------------------------------|----|

|               |    |
|---------------|----|
| Objektklemmen | 12 |
|---------------|----|

|   |  |
|---|--|
| A | Damit reguliere ich die Helligkeit des Bildes. |
|---|--|

|   |                                   |
|---|-----------------------------------|
| B | In diesem Rohr steckt das Okular. |
|---|-----------------------------------|

|   |  |
|---|--|
| C | Hier befinden sich die verschiedenen Objektive.<br>Durch Drehen kann ich das verwendete Objektiv wechseln. |
|---|--|

|   |                                   |
|---|-----------------------------------|
| D | Damit steht das Mikroskop sicher. |
|---|-----------------------------------|

|   |  |
|---|--|
| E | Darauf lege ich den Gegenstand, den ich betrachten will. |
|---|--|

|   |  |
|---|--|
| F | Damit wird ein vergrößertes Bild des Objekts erzeugt. Auf der Fassung steht, wie stark die Vergrößerung ist. |
|---|--|

|   |                                  |
|---|----------------------------------|
| G | Dient zum Tragen des Mikroskops. |
|---|----------------------------------|

|   |                                   |
|---|-----------------------------------|
| H | Damit wird das Objekt beleuchtet. |
|---|-----------------------------------|

|   |  |
|---|--|
| I | Damit kann ich das Bild scharf einstellen. |
|---|--|

|   |                                   |
|---|-----------------------------------|
| J | Sie halten den Objektträger fest. |
|---|-----------------------------------|

|   |  |
|---|--|
| K | Die Linse, durch die ich in das Mikroskop schaue. Auf der Fassung ist angegeben, um ein Wievielfaches vergrößert wird. |
|---|--|

|   |  |
|---|--|
| L | Der Gegenstand, den ich betrachten will. |
|---|--|

Ordne die Begriffe den passenden Erklärungen richtig zu.

|                                  |    |   |  |
|----------------------------------|----|---|--|
| Einstellknopf/Trieb              | 1  | A | Damit reguliere ich die Helligkeit des Bildes.   |
| Okular                           | 2  | B | In diesem Rohr steckt das Okular.  |
| Blende                           | 3  | C | Hier befinden sich die verschiedenen Objektive.<br>Durch Drehen kann ich das verwendete Objektiv wechseln.             |
| Stativfuß                        | 4  | D | Damit steht das Mikroskop sicher.  |
| Tubus                            | 5  | E | Darauf lege ich den Gegenstand, den ich betrachten will.   |
| Objektivrevolver                 | 6  | F | Damit wird ein vergrößertes Bild des Objekts erzeugt. Auf der Fassung steht, wie stark die Vergrößerung ist.           |
| Objektiv                         | 7  | G | Dient zum Tragen des Mikroskops.   |
| Objekttisch                      | 8  | H | Damit wird das Objekt beleuchtet.  |
| Objekt                           | 9  | I | Damit kann ich das Bild scharf einstellen.   |
| Stativsäule                      | 10 | J | Sie halten den Objektträger fest.  |
| Lampe (Auflicht- und Durchlicht) | 11 | K | Die Linse, durch die ich in das Mikroskop schaue. Auf der Fassung ist angegeben, um ein Wievielfaches vergrößert wird. |
| Objektklemmen                    | 12 | L | Der Gegenstand, den ich betrachten will.   |